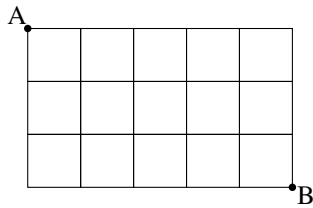
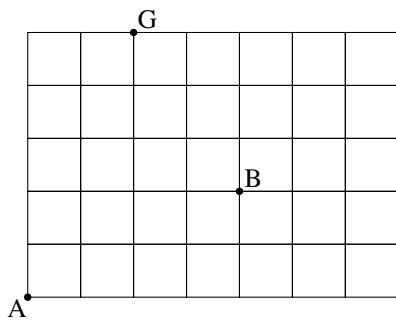


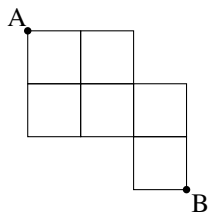
- 1) Hoeveel mogelijke kortste routes zijn er van A naar B?  
Bereken het antwoord op twee manieren.



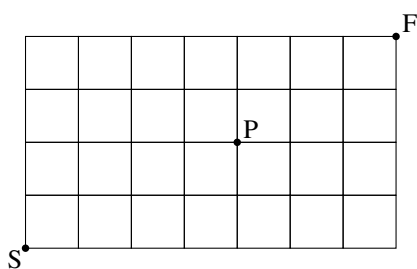
- 2) a) Hoeveel mogelijke kortste routes zijn er van A naar B?  
b) Hoeveel mogelijke kortste routes zijn er van A naar G?  
c) Hoeveel mogelijke kortste routes zijn er van A naar B via G?



- 3) Hoeveel mogelijke kortste routes zijn er van A naar B?



- 4) Hoeveel mogelijke kortste routes zijn er van S naar F via P?



- 5) Hoeveel mogelijke kortste routes zijn er van A naar B?  
Bereken het antwoord op twee manieren.

